

JPN PERAK

2020

Modul#learning@home

SEJARAH-K1

JABATAN PENDIDIKAN NEGERI PERAK

We Deliver



TINGKATAN

4



BAB 3 : KONFLIK DUNIA DAN PENDUDUKAN JEPUN DI NEGARA KITA
3.1 : Nasionalisme Di Negara Kita Sebelum Perang Dunia

1 Senarai berikut adalah badan penyiasat yang ditubuhkan oleh British di Negeri-negeri Melayu

- | |
|--|
| <ul style="list-style-type: none">• Jabatan Siasatan Jenayah• Biro Siasatan Politik |
|--|

Apakah tujuan British menubuhkan badan tersebut? Ms 52

- A Menyiasat pergerakan parti
- B Mengetatkan kawalan sempadan
- C Mengawal perkembangan nasionalisme
- D Memantau perjuangan golongan radikal

2 Mengapakah orang Melayu memberi sokongan kepada Empayar Uthmaniyah semasa Perang Dunia Pertama ?.Ms 52

- A Persahabatan antara benua
- B Perkembangan kuasa imperialisme
- C Pelindung umat Islam seluruh dunia
- D Perjuangan menuntut kemerdekaan

3. Penulisan berikut sering disiarkan dalam akhbar-akhbar Melayu pada abad ke-20. .

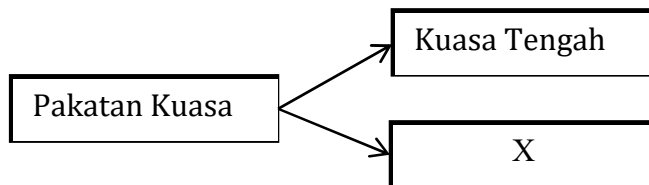
Cerita Tekukur

Apakah sindiran utama penulisan tersebut terhadap penjajah? Ms 53

- A Mengongkong penerbitan akhbar
- B Menghapuskan institusi raja
- C Menguasai ekonomi tempatan
- D Menyekat kemasukan imigran

3.2 Latar Belakang Perang Dunia

4. Rajah berikut merupakan kuasa besar yang terlibat dalam Perang Dunia Pertama



Apakah negara X ? Ms 54

- I Jerman
 - II Britain
 - III Rusia
 - IV Austria
-
- A I dan II
 - B I dan IV
 - C II dan III
 - D III dan IV

5 Maklumat berikut adalah kuasa besar yang terlibat dalam Perang Dunia Pertama.

Tarikh	Peristiwa
April 1917	Amerika Syarikat menyertai peperangan dengan memihak kepada Pakatan Bertiga

Apakah kesan penyertaan tersebut kepada Amerika Syarikat? Ms 55-56

- A Kuasa rakyat di dengari
- B Kehilangan tanah jajahan
- C Diiktiraf sebagai kuasa besar
- D Di kehendaki membayar pampasan

6 Deklarasi berikut telah diisytiharkan dalam Persidangan Damai Paris

- Deklarasi 14 Perkara Woodrow Wilson

Apakah yang dicadangkan dalam perkara tersebut? Ms 56

- I Perpaduan negara berlandaskan agama
 - II Pemulihan sistem pemerintahan beraja
 - III Penentuan nasib negara oleh rakyat
 - IV Penetapan sempadan negara berasaskan bangsa
-
- A I dan II
 - B I dan IV
 - C II dan III
 - D III dan IV

7 Perjanjian Versailles 1919 di tandatangani antara Pakatan Bertiga dengan Jerman selepas Perang Dunia Pertama.

Apakah kesan perjanjian tersebut kepada Jerman? Ms 56

- I Kehilangan tanah jajahan
- II Bayaran pampasan yang tinggi
- III Berlaku peningkatan penyakit berjangkit
- IV Kejatuhan ekonomi pertanian

- A I dan II
- B I dan IV
- C II dan III
- D III dan IV

8 Perang Dunia Pertama memberi inspirasi kepada kebangkitan nasionalisme orang Melayu.

Bagaimanakah British menyekat kebangkitan tersebut? Ms 57

- A Mengukuhkan institusi pendidikan
- B Meluluskan undang-undang baharu
- C Meningkatkan taraf hidup rakyat
- D Membawa masuk tentera luar

3.3 Perang Dunia Kedua

9 Apakah persamaan pemimpin berikut dalam mengembalikan maruah negara masing-masing? Ms 58



Benito Mussolini



Adolf Hitler

- A Meluaskan tanah jajahan
- B Memulihkan keyakinan rakyat
- C Mengetatkan kawalan sempadan
- D Mengamalkan kebebasan bersuara

10 Antara berikut, pasangan yang manakah tepat tentang ideologi baharu di Itali dan Jerman. Ms 58

	Fasis	Nazisme
A	Menjamin kebebasan individu sepenuhnya	Menyekat dan mengawal kebebasan individu
B	Mengutamakan kepentingan negara	Mengagungkan bangsa sendiri
C	Membenarkan hanya satu parti sahaja	Mengamalkan sistem pemerintah monarki
D	Melaksanakan falsafah Legalisme	Menerapkan kepimpinan melalui teladan

11. Senarai berikut merujuk kawasan yang ditakluki oleh Jerman semasa Perang Dunia Kedua

- Poland
- Denmark
- Norway

Bagaimanakah Jerman berjaya menguasai negara tersebut? Ms 60

- A Serangan kilat
B Serangan berani mati
C Pertukaran wilayah
D Perjanjian damai
- 12 Peta berikut adalah lokasi pendaratan Tentera Bersekutu di Normandy, Perancis



Mengapakah tentera Jerman gagal mengesan pendaratan tentera tersebut? Ms 63

- A Pemalsuan penyebaran maklumat
B Pembelotan tentera berlaku
C Kerjasama penduduk tempatan
D Kelonggaran kawalan sempadan

3.4 Perang Dunia Kedua di Asia Pasifik

13. Gambar di berikut adalah pemimpin Jepun yang melancarkan Pembaharuan Meiji.



Maharaja Meiji

Apakah kesan pembaharuan tersebut kepada Jepun? Ms 64

- A Keruntuhan sistem pemerintahan feudal
 - B Kemasukan imigran beramai-ramai
 - C Kekuatan tentera diiktiraf dunia
 - D Kebangkitan penduduk tempatan
14. Dalam perluasan kuasa di Asia Pasifik, pemerintah Jepun telah mewujudkan orde baharu Asia.

Apakah matlamat orde tersebut? Ms 64

- I Mengembangkan kuasa tentera
 - II Mewujudkan kebebasan ekonomi
 - III Menyekat dagangan negara luar
 - IV Memperkenalkan sistem birokrasi
- A I dan II
 - B I dan IV
 - C II dan III
 - D III dan IV

15. Senarai berikut adalah kawasan ditakluki oleh Jepun yang mengamalkan dasar peluasan kuasa pada abad ke-20.

❖ Korea
❖ Manchuria
❖ China

Apakah tindak balas pihak Bersekutu terhadap tindakan Jepun tersebut ? Ms 65

- A Mengenakan sekatan ekonomi
B Mengawal kegiatan perisikan
C Menghapuskan institusi beraja
D Mengadakan propaganda
- 16 Jadual berikut merupakan tindakan Jepun untuk meluaskan kuasa pada 8 Disember 1941

Masa	Peristiwa
2.15 pagi	Mendarat di Pantai Kuala Pak Amat, Kota Bharu
3.25 pagi	Menyerang Pearl Harbour
4.00 pagi	Mendarat di Singgora, Thailand

Apakah pengajaran daripada jadual di atas? Ms 67

- A Bersatu untuk mencapai kemajuan
B Bekerjasama untuk kesejahteraan hidup
C Bijak merancang untuk mencapai matlamat
D Bertoleransi untuk keamanan negara

3.6 Dasar Pendudukan Jepun Di Negara Kita

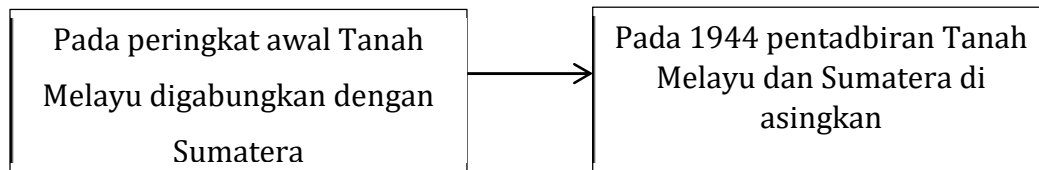
- 17 Gambar berikut adalah poster propaganda Jepun yang di gunakan ke atas Tanah Melayu.



Poster propaganda tentera Jepun tertera dalam tulisan Jawi
'Ya Allah, terpeliharalah kami oleh tentera Jepun daripada aniaya'

- Mengapakah orang Melayu terpengaruh dengan poster tersebut? Ms 68
- A Bebas daripada penjajahan Barat
 - B Mengekalkan status quo Tanah Melayu
 - C Kecanggihan peralatan tentera Jepun
 - D Ketidakadilan pentadbiran British
18. Apakah slogan yang digunakan oleh Jepun untuk memastikan sumber ekonomi mereka mencukupi? Ms 68
- A Asia untuk Orang Asia
 - B Tugas Menyebarkan Tamadun
 - C Kemakmuran Asia Timur Raya
 - D Beban Orang Asia


- 20 Rajah berikut adalah perubahan bentuk pentadbiran Jepun di Asia Tenggara pada abad ke-20.



Mengapakah berlaku perubahan tersebut? Ms 70

- A Serangan daripada kuasa-kuasa besar
 - B Sejarah pentadbiran tempatan tidak sama
 - C Penentangan daripada rakyat tempatan
 - D Perjanjian damai antara kedua pihak
- 21 Bagaimanakah pentadbiran Jepun mengatasi masalah kekurangan pegawai di Asia Tenggara ? Ms 71
- A Penubuhan Maahad II Ihya Assyariff
 - B Pembentukan Institusi Latihan Pemimpin Muda
 - C Membuka Institut Latihan Kemahiran Pentadbiran
 - D Mewujudkan Maktab Penguruan Sultan Idris

- 22 Gambar di bawah adalah berkaitan novel yang diterbitkan semasa pendudukan Jepun di Tanah Melayu.



Apakah mesej utama yang hendak disampaikan dalam karya tersebut? Ms 73

- A Ketidakadilan pentadbiran
 - B Kemunduran masyarakat
 - C Kekejaman tentera
 - D Keruntuhan akhlak
- 23 Pentadbiran Jepun telah menerapkan amalan menghormati kebudayaan Jepun dalam kalangan murid-murid di Tanah Melayu

Bagaimanakah Jepun melaksanakan amalan tersebut? Ms 72

- I Penggunaan bahasa
 - II Perhimpunan mengadap Timur
 - III Tunduk tanda hormat
 - IV Peperiksaan awam
- A I dan II
 - B I dan IV
 - C II dan III
 - D III dan IV

3.7 Perjuangan Rakyat Menentang Jepun

24 Senarai berikut adalah pasukan yang menerima bantuan British semasa pendudukan Jepun.

- MPAJA
- Force 136

Apakah bentuk bantuan tersebut? Ms 75-76

- A Latihan mentadbir
- B Latihan ketenteraan
- C Latihan pengurusan diri
- D Latihan mengawal ladang

25 Gambar berikut adalah anggota terawal yang menyertai Melayu Force 136 Tanah Melayu.



Tengku Mahmood Mahyiddeen

Apakah sumbangan tokoh tersebut? Ms 76

- A Mengetuai operasi di Kuala Lipis
- B Menyiarkan siaran radio dari India
- C Menyelamat tentera British di Johor
- D Membina pusat pendidikan di Bagan Serai

- 26 Operasi Semut di laksanakan oleh tentera Bersekutu di Sarawak untuk menentang Jepun.

Antara yang berikut, pilih pasangan yang betul tentang operasi tersebut? Ms 79

	Nama Operasi	Kawasan
A	Semut 1	Bario dan Trusan
B	Semut II	Brunei dan Lawas
C	Semut III	Bintulu dan Sungai Rajang
D	Semut IV	Tutong dan Sarikei

- 27 Jadual di bawah merupakan pemimpin tempatan Sarawak yang dilantik oleh Jepun.

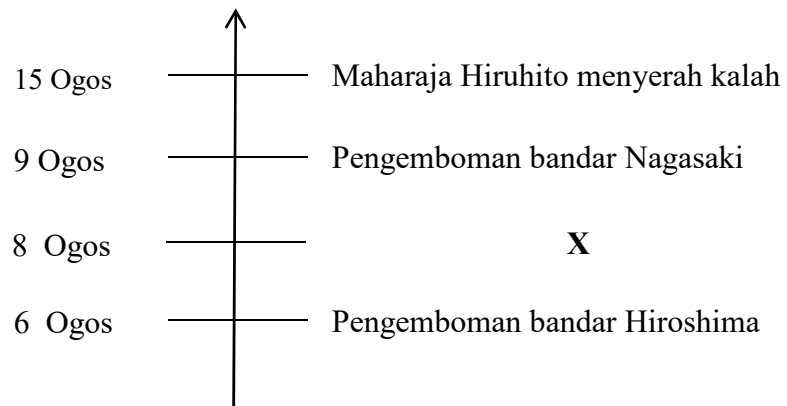
Pegawai Daerah	Kawasan
Abang Haji Openg	Kuching
Empenit Adam	Simanggang
Satem	Lawas

Mengapakah pemimpin tersebut dilantik? Ms 81

- A Menumpukan taat setia
- B Memenuhi desakan penduduk
- C Mengisi kekosongan jawatan
- D Mengiktiraf kewibawaan pemimpin

3.8 Keadaan Negara Kita Selepeas kekalahan Jepun

28 Rajah di bawah adalah garis masa kekalahan Jepun dalam Perang Dunia Kedua pada 1945.



Apakah X? Ms 82

- A Persidangan Kabinet Negara
- B Majlis Perundangan Persekutuan
- C Jawatankuasa Kerja Persekutuan
- D Penganjuran Persidangan Kebangsaan

- 29 Jadual berikut adalah antara lokasi kebangkitan orang Melayu menentang Bintang Tiga.

Negeri	Lokasi
Johor	Batu Pahat (Ayer Hitam, Senggarang dan Rengit) Muar
Negeri Sembilan	Batu Kikir (Padang Lebar)
Kedah	Baling

Mengapakah orang Melayu menentang Bintang Tiga? Ms 82

- A Keangkuhan pemimpin tertinggi
 - B Mempertahankan hak bangsa
 - C Menegakkan institusi beraja
 - D Menuntut kebebasan diri
- 30 Gambar berikut merupakan Pegawai Daerah Batu Pahat yang dilantik oleh Sultan Ibrahim semasa penguasaan Bintang Tiga



Dato' Onn Jaafar

Apakah sumbangan beliau? Ms 85

- A Menghapuskan penindasan
- B Menghalang kemasukan orang asing
- C Menkuatkan pentadbiran tempatan
- D Mengembalikan keamanan negeri

PANDUAN JAWAPAN BAB 3

NO.SOALAN	JAWAPAN	M/S		NO.SOALAN	JAWAPAN	M/S
1	C	52		16	C	67
2	C	52		17	A	68
3	A	53		18	C	68
4	C	54		19	D	69
5	C	55-56		20	B	70
6	D	56		21	B	71
7	A	56		22	C	73
8	B	57		23	A	72
9	A	58		24	B	75-76
10	B	58		25	B	76
11	A	60		26	A	79
12	A	63		27	C	81
13	C	64		28	A	82
14	A	64		29	B	84
15	A	65		30	D	85